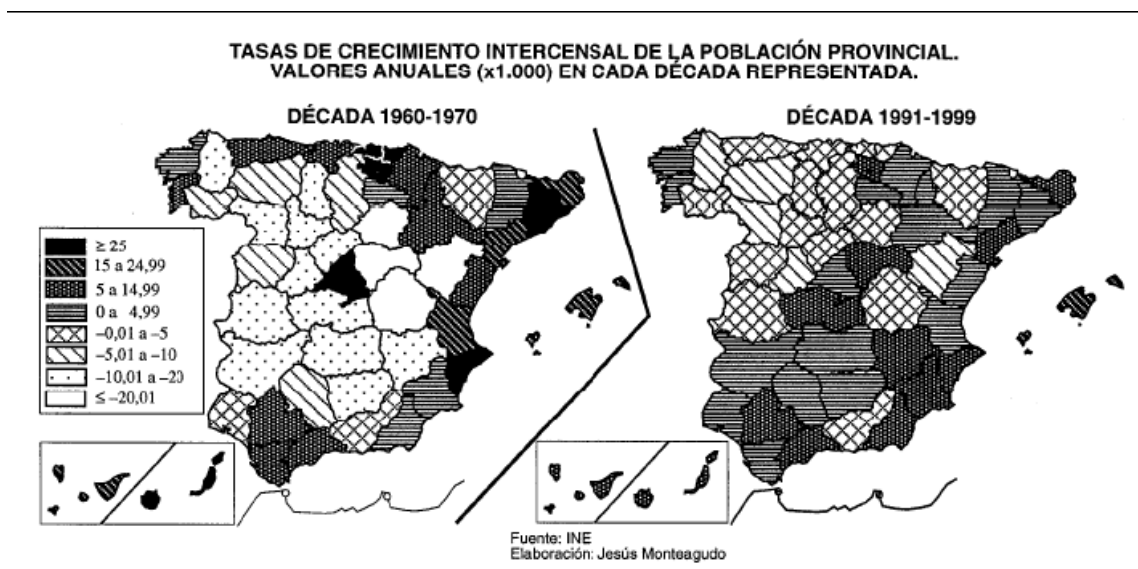


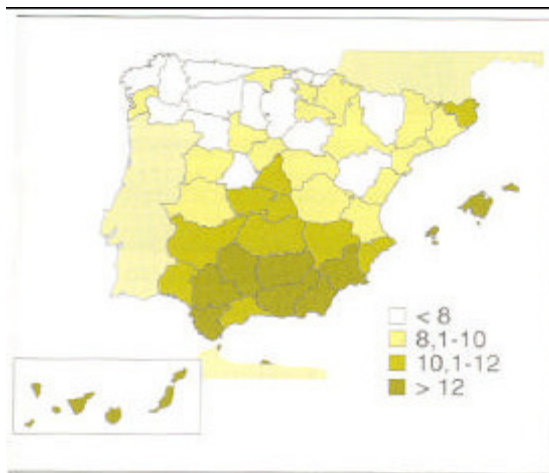
## TEMA 6. EL ESPACIO SOCIAL Y LA POBLACIÓN

1. Analice los mapas que siguen y responda a las siguientes cuestiones:
  - a) En la década de 1960-70 ¿qué provincias tienen un incremento demográfico superior al 25 ‰ anual y cuáles entre el 15 y 24,99 ‰?. Enumérelas diferenciando cada grupo.
  - b) Explique las causas principales por las que se producen los resultados que muestra el mapa de 1960-70.
  - c) Compare los dos mapas y explique las causas principales por las que el comportamiento demográfico es tan diferente en ambos períodos.

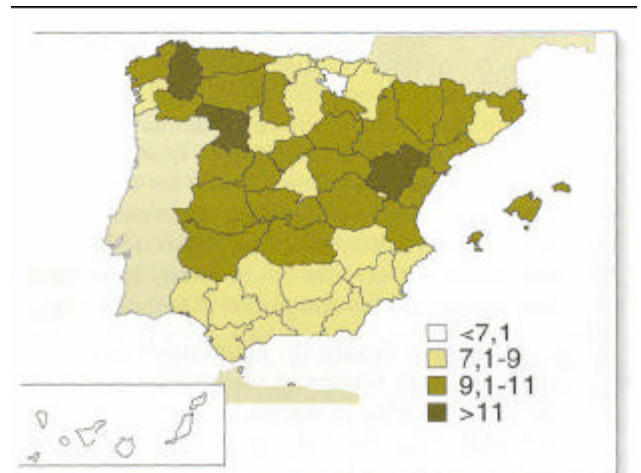


2. En la figura siguiente se pueden ver dos mapas que representan la distribución provincial de las tasas de natalidad y mortalidad brutas, en tantos por mil, en España, correspondientes al año 1991. Analícelos y conteste a las siguientes preguntas:

- Diga el nombre de las provincias que tienen tasas de natalidad superiores al 12 ‰ y de las provincias que tienen tasas de mortalidad superiores al 11 ‰.
- Diga qué Comunidad Autónoma tendrá mayor crecimiento natural de población: ¿Galicia o Andalucía?
- Explique las posibles causas de esta situación.



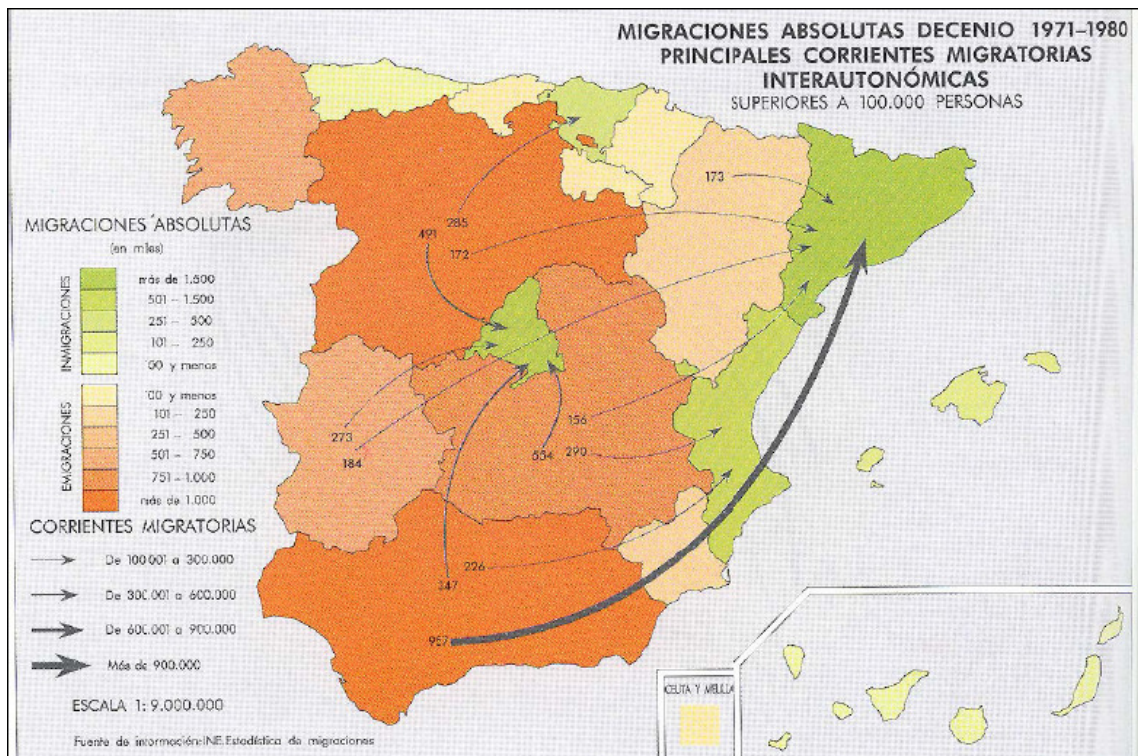
**Figura 4.5.** Tasa de natalidad en 1991 (‰).  
(Fuente: INE.)



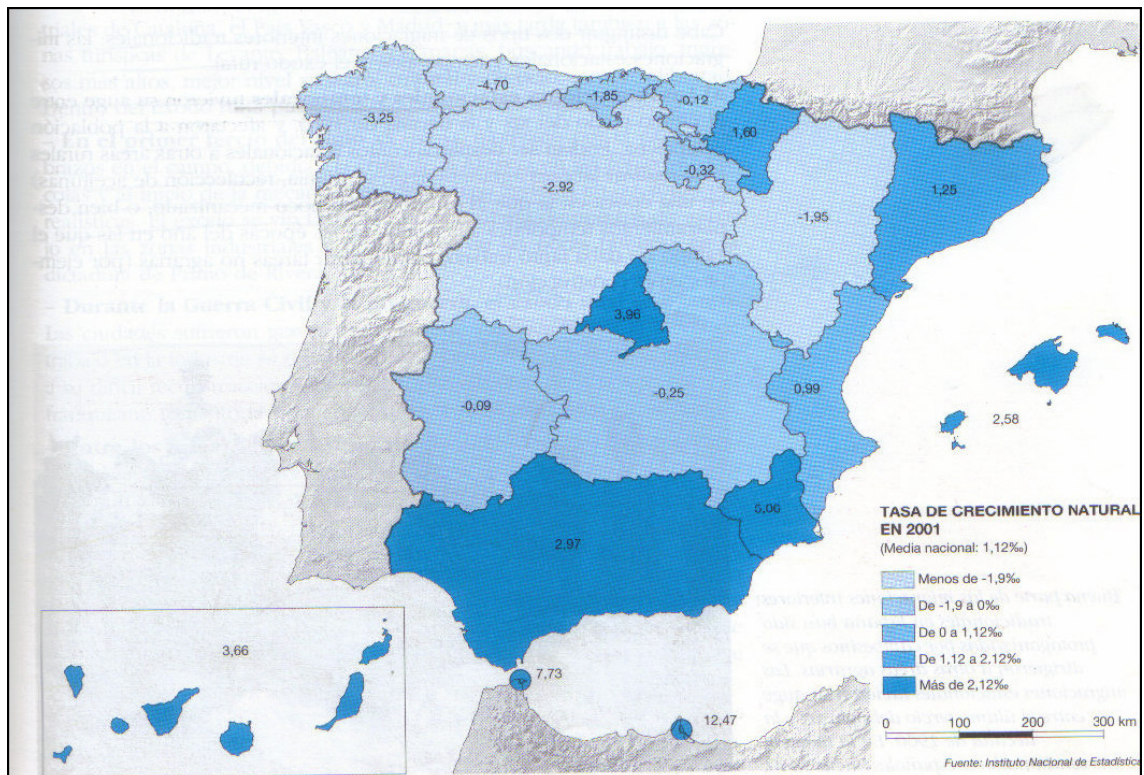
**Figura 4.10.** Tasa bruta de mortalidad por provincias en 1991. (Fuente: INE.)

**3. Analice el mapa de migraciones interiores en 1971-80 y responda a las siguientes cuestiones:**

- En la década de 1971-80 ¿qué Comunidades Autónomas tienen valores emigratorios superiores a 101.000 personas?, ¿cuáles tienen valores inmigratorios superiores a 101.000 personas?
- Explique las causas principales por las que se producen los resultados que muestra el mapa de 1971-80.
- ¿Cambia sustancialmente la situación desde la década representada hasta la actualidad? Explíquelo.



4. En el siguiente mapa se representa la tasa de crecimiento natural de la población en España. Con la información de dicho mapa responda a las siguientes cuestiones:
- Nombre de las Comunidades Autónomas con una tasa de crecimiento natural superior al 2,12 %.
  - Nombre de las Comunidades Autónomas con una tasa de crecimiento natural inferior al 1,9 %. Explique las causas que la motivan.
  - Diferencias que dan lugar a los desequilibrios territoriales en el movimiento natural de la población.



5. El mapa representa la localización de la población extranjera en las provincias españolas. En función de ello responde a las siguientes cuestiones:
- ¿Qué provincias acogen de 20.001 extranjeros en adelante?
  - Exponga a grandes rasgos las tendencias territoriales en la localización de extranjeros ¿por qué se acumulan en esas provincias?.
  - ¿Cuáles considera que son los principales países de origen de los extranjeros en España y por qué razones son esos países?.

