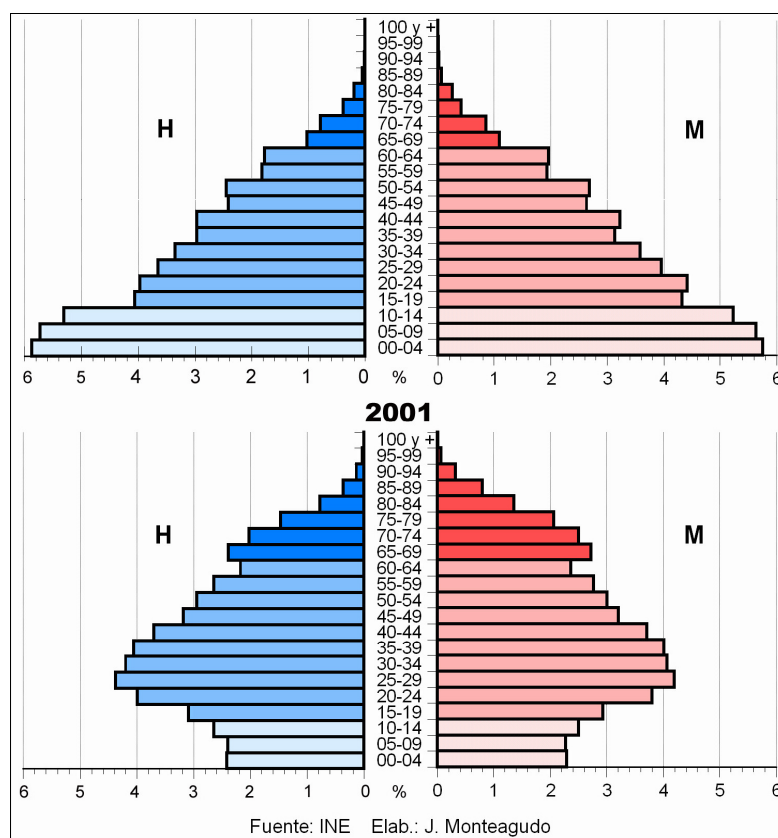
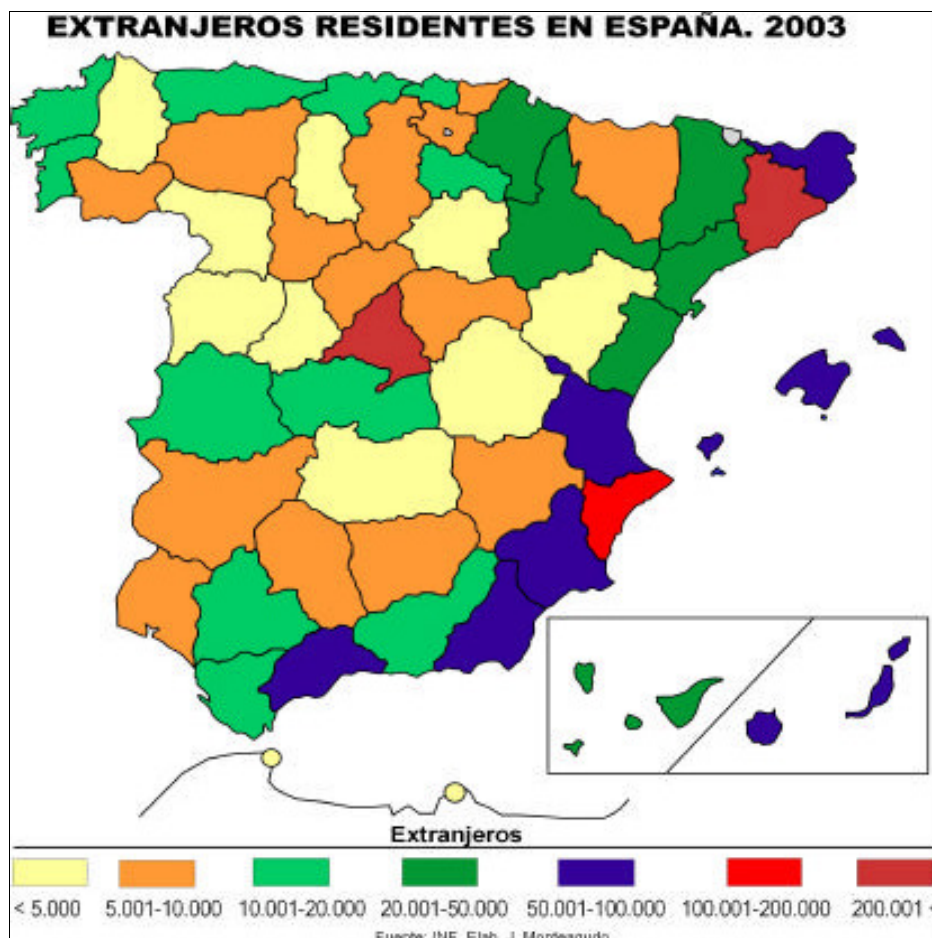


TEMA 7. LA ESTRUCTURA DE LA POBLACIÓN EJERCICIOS PRÁCTICOS

1. Las figuras muestran la estructura de la población por edad y sexo de la población española en 1900 y en 2001. Obsérvelas y conteste:
 - a) ¿A qué modelo de estructura demográfica corresponde cada una de estas figuras? Razone la respuesta explicando brevemente las causas que dan lugar a ambos modelos, al comienzo y al final del siglo XX.
 - b) Compare la población de 65 y más años en ambas figuras ¿qué diferencias básicas existen?, ¿qué está ocurriendo en la figura de 2001?, ¿qué consecuencias sociales tiene?.
 - c) Compare la población de 0-14 años en ambas figuras ¿qué diferencias básicas existen?, ¿qué está ocurriendo en la figura de 2001?, ¿qué consecuencias sociales tiene?.
 - d) ¿Cuáles son las causas que explican los entrantes correspondientes a los grupos de edad de entre 45 y 55 años en la pirámide de 1991?. ¿Y el entrante correspondiente al grupo de edad de 0 a 4 años?.
 - e) Explique el comportamiento de la población española entre las fechas de una y otra pirámides y las posibles consecuencias que se pueden derivar de la situación de 1991?

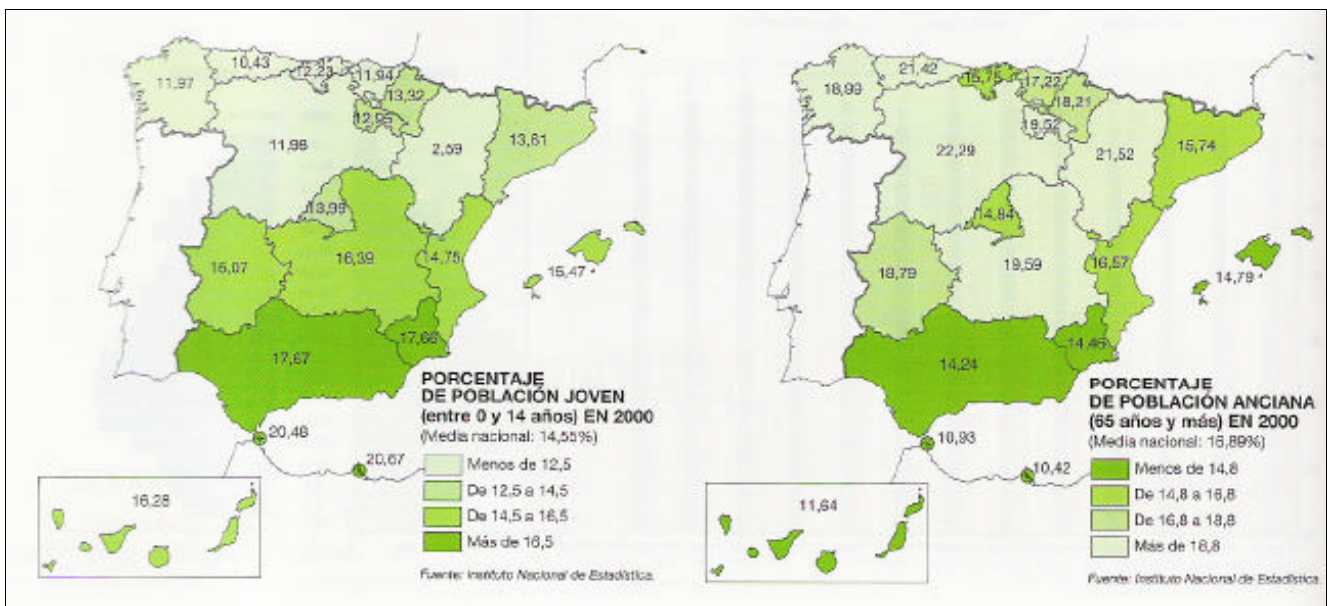


2. El mapa representa la localización de la población extranjera en las provincias españolas. En función de ello responda a las siguientes cuestiones:
- ¿Qué provincias acogen de 20.001 extranjeros en adelante?
 - Exponga a grandes rasgos las tendencias territoriales en la localización de extranjeros ¿por qué se acumulan en esas provincias?.
 - ¿Cuáles considera que son los principales países de origen de los extranjeros en España y por qué razones son esos países?.



3. Los mapas representan la estructura de la población menor de 15 años y mayor de 65 años en el año 2000. Observe los mapas y responda a las siguientes preguntas:

- Nombre todas las Comunidades Autónomas que tienen una “población joven” superior al 16,5 %; entre el 14,5 -16,5 %; y las que tienen una “población anciana” superior al 18,8 %.
- Señale las posibles causas de esta distribución estructural y territorial de la población española.
- ¿Qué consecuencias tiene esta estructura en la sociedad y en la economía de las regiones afectadas por uno u otro caso?



4. Los mapas representan la estructura de la población menor de 16 años y mayor de 65 años en 1991. Analice los mapas y responda a las siguientes preguntas:

- Nombre todas las Comunidades Autónomas que tienen una “población menor de 16 años” superior al 20%, y las que tienen una “población mayor de 65 años” superior al 15%.
- Señale las causas de esta distribución estructural y territorial de la población española.
- ¿Qué consecuencias tiene esta estructura en la sociedad y en la economía de las regiones afectadas por uno u otro caso?.

