

ACTIVIDADES DE GEOGRAFÍA.

La Provincia de Córdoba, que se extiende por una superficie de 13.769 Km², presentaba en el año 2.010 una población oficial de 805.857 habitantes personas. De este total 328.659 vivían en la capital, y el resto en la provincia de Córdoba. En la capital hay censados 157.984 varones / 170.675 mujeres. En la provincia existe un total de 409.999 mujeres empadronadas en la provincia. De estas un total de 315.109* oscilan entre los 15 y los 49 años.

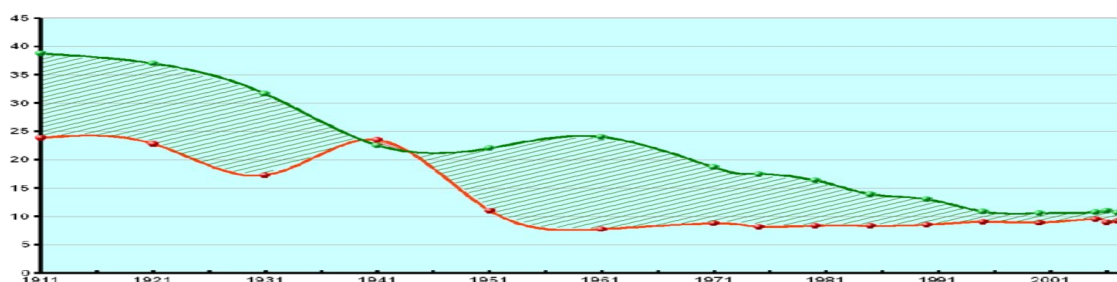
En este año el número de nacidos alcanzó la cifra de 7.988* personas, de los que fallecieron en su primer año de vida 26* mientras que los fallecidos totales ascendieron a 6.627*. Se constató que 14.558* personas salieron de la provincia, aunque entraron en ella 12.050* personas procedentes de otros lugares. La esperanza de vida al nacer en hombres es de 74 años, mientras que en mujeres es de 81 años. Del total de población estaban ocupados 248.400 cordobeses y cordobesas, aunque de ellos 127.800 se encuentran en paro.

* Son datos sin contrastar y los utilizamos para la práctica.

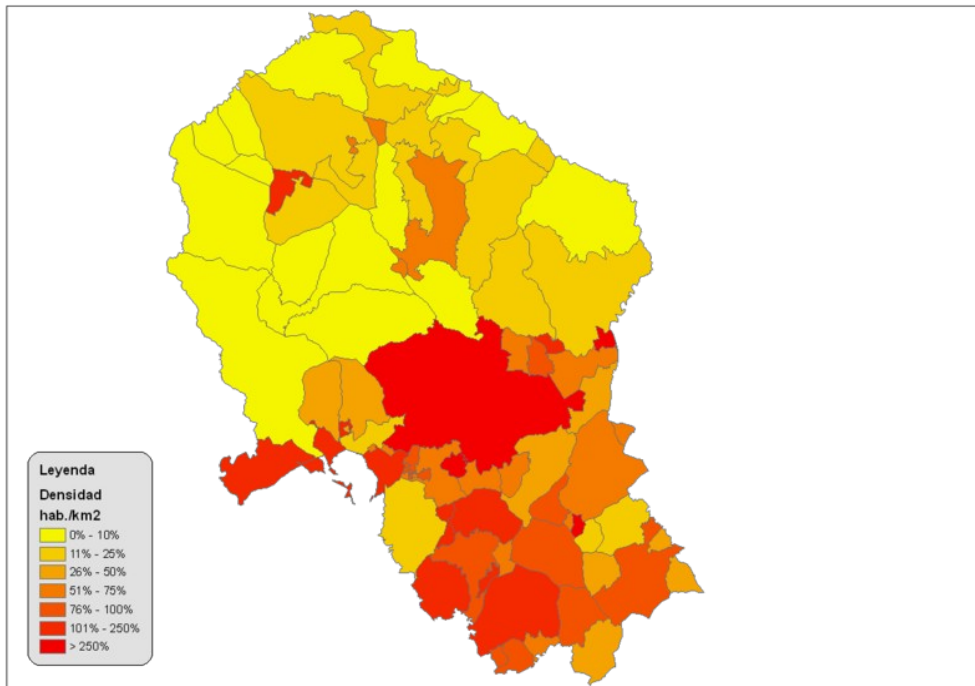
- Calcula el **crecimiento natural o vegetativo** de la Provincia de Córdoba para el año 2.010.
- Calcula el **saldo migratorio** de la Provincia de Córdoba para el año 2.010.
- Calcula el **crecimiento real** de la Provincia de Córdoba para el año 2.010.
- Calcula la **tasa de crecimiento natural o vegetativo** de la Provincia de Córdoba para el año 2.010.
- Calcula la **tasa bruta de natalidad** de la Provincia de Córdoba para el año 2.010.
- Calcula la **tasa bruta de Mortalidad** de la Provincia de Córdoba para el año 2.010.
- Calcula la **tasa de mortalidad infantil** para el año 2.010.
- Calcula la **tasa de fecundidad** de este año.
- Calcula la **densidad de población** en la provincia.
- Calcula la **sex ratio**.
- Calcula la **tasa de actividad y la de paro** en la provincia.

SEGUNDO BLOQUE DE ACTIVIDADES

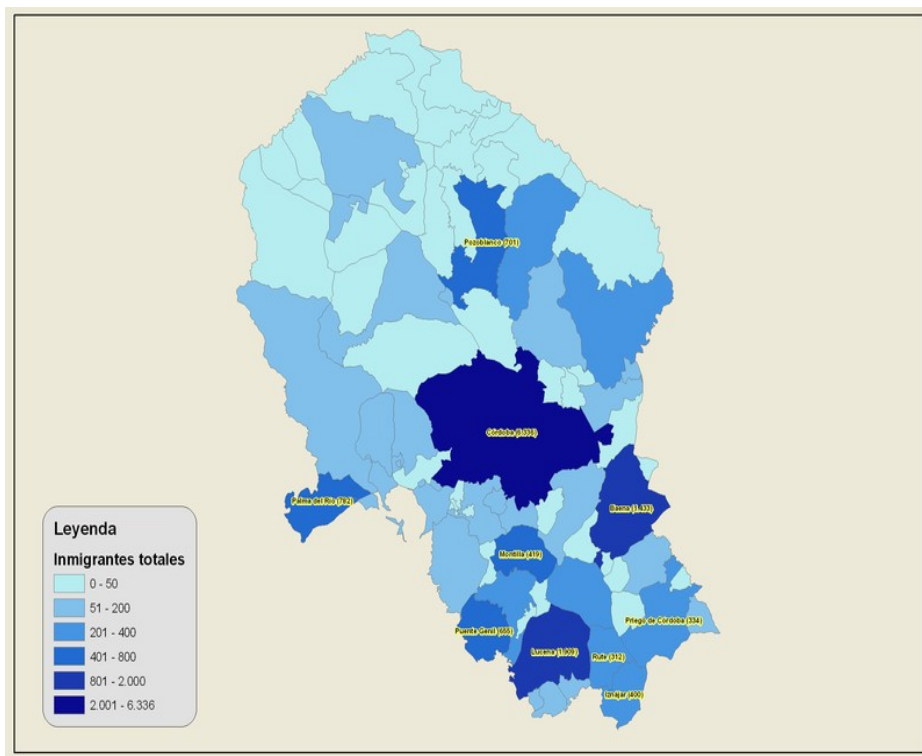
- Analiza la siguiente gráfica sobre **la evolución de la natalidad y mortalidad en Córdoba** a lo largo del siglo XX y en el primer decenio del siglo XXI, intentando explicar las razones de la evolución.



- Analiza el siguiente mapa sobre **la densidad de la población en la provincia** intentando explicar el **poco peso demográfico del norte de la provincia de Córdoba, frente a los municipios del sur.**



3. Intenta explicar el mapa de la inmigración en la provincia de Córdoba, así como el poco peso de la inmigración en el norte de la provincia.



FERNANDO JAVIER ROMERO BALSERA
 IES AVERROES

